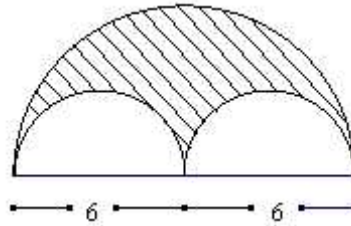




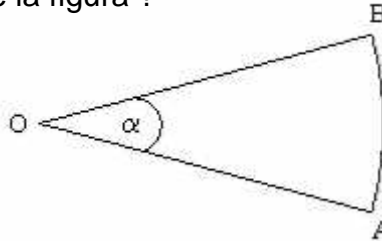
Guía de Matemática 3 mes de Octubre

Nombre:	Curso: 7°A - B
Unidad: Geometría	Profesor: Mister Carlos/ Miss Silvana
Contenido:	Área del círculo
Objetivo(s):	Calcular áreas de diversas figuras

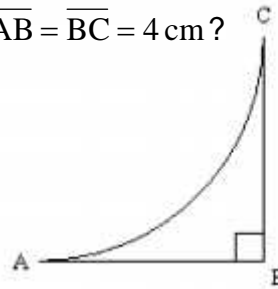
- 1) ¿Cuál es el perímetro de la superficie sombreada ?



- 2) En la figura O es el centro de una circunferencia de radio $\overline{OA} = 6$ cm . Si $\angle AOB = 30^\circ$, ¿cuál es el perímetro de la figura ?



- 3) ¿Cuál es el perímetro de la figura ABC si $\overline{AB} = \overline{BC} = 4$ cm ?



- 4) ¿Cuál es el perímetro de la figura?

